



1. Vypočítej příklady na kostičkách. Každou krychli, na které je výsledek příkladu 45, vybarvi.

$38 + 7$	$42 + 3$	$20 + 35$	$51 - 7$	$70 - 25$	$31 + 14$
$25 + 8$	$60 - 15$	$44 - 9$	$45 + 45$	$39 + 6$	$15 - 9$

2. Výsledky nevybarvených krychlí zapiš na linku. Na druhou linku je seřaď podle velikosti.

---

---

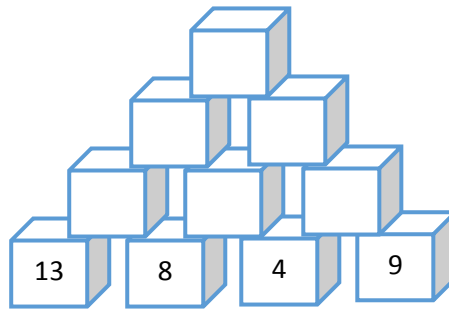
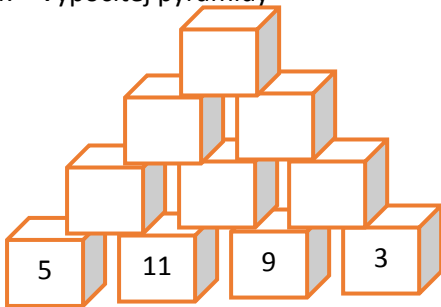
3. Steve použil na stavbu domu 83 krychlí. 9 krychlí se při pádu z velké výšky rozbilo. Kolik krychlí zbylo Stevovi na stavbu?





počet krychlí \_\_\_\_\_  
rozbilo se \_\_\_\_\_



Výpočet: \_\_\_\_\_





Odpověď: \_\_\_\_\_



4. Vypočítej pyramidy






5.  = 35     = 7     = 54     = 9

 +  = \_\_\_\_\_

 +  +  -  = \_\_\_\_\_

 -  = \_\_\_\_\_

 -  +  = \_\_\_\_\_